

等 別：佐級鐵路人員考試

類 科 別：材料管理、運輸營業、場站調車

科 目：公民與英文

考試時間：1 小時

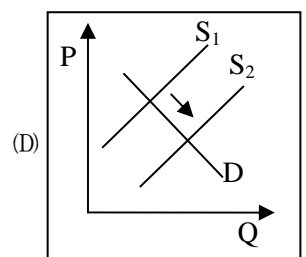
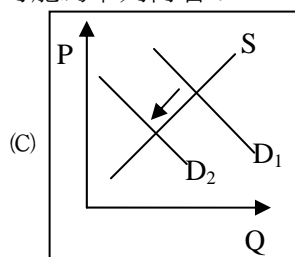
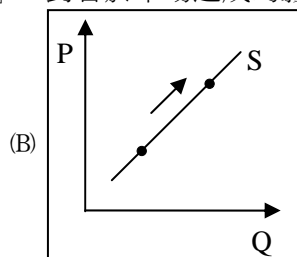
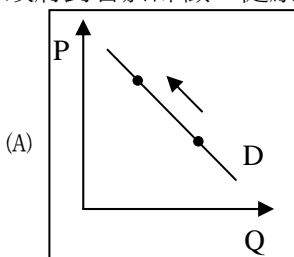
座號：_____

※注意：(一)本試題為單一選擇題，請選出一個正確或最適當的答案，複選作答者，該題不予計分。

(二)共 50 題，每題 2 分，須用 2B 鉛筆在試卡上依題號清楚劃記，於本試題上作答者，不予計分。

(三)禁止使用電子計算器。

- 百合班與桔梗班兩班進行做糖果比賽，結果百合班做拐杖糖的效率是桔梗班的 5 倍，做棉花糖的效率是桔梗班的 7 倍，則下列敘述何者正確？
(A)百合班在做拐杖糖上，同時具比較利益及絕對利益
(B)桔梗班在做棉花糖上，同時具絕對利益及比較利益
(C)依比較利益法則分工，百合班應專門做棉花糖，桔梗班應專門做拐杖糖
(D)依比較利益法則分工，百合班應專門做拐杖糖，桔梗班應專門做棉花糖
- 星球國的香水檸檬都是由幸福國進口的農產品。近日星球國香水檸檬的價格不斷在飆升，而且交易數量也呈現下跌的現象。在不考慮其他條件的情況下，造成「星球國香水檸檬市場」此現象的原因，下列何種推論是正確的？
(A)運送該農產品的人力與能源運輸費用均降低
(B)星球國政府提高對進口品的關稅使成本提高
(C)幸福國採品種改良技術使得香水檸檬大豐收
(D)經醫學證明香水檸檬有助於降低感冒的機會
- 假設中東地區發生戰亂，政府為了穩定物價，對石油採取價格上限措施，政府的作為會對該國石油市場產生何種影響？
(A)提高生產者剩餘
(B)提高消費者剩餘
(C)會出現供過於求的狀況
(D)市場會出現供需均衡的狀況
- 投入生產要素會獲得報酬，下列四種生產要素中，那一種要素的功能性所得分配可能為負值？
(A)勞動
(B)土地
(C)資本
(D)企業才能
- 目前我國汽機車燃料費為「隨車徵收」，每年依引擎排氣量的大小固定徵收一筆費用。未來能源稅上路後，將改為「隨油徵收」，每公升汽油課以一定比例的稅金。此舉除了符合租稅公平性之外，也可以強調下列何項概念？
(A)負擔能力
(B)外部效果
(C)比較利益
(D)分散風險
- 下列關於造成「通貨膨脹」因素的敘述，何者正確？①「成本推動型」：生產的成本提高而造成物價提高
②「需求拉動型」：過多貨幣追逐商品造成物價提高 ③「停滯性」：通膨率增加的同時，而失業率降低
④「輸入型」：大量商品進口國內而造成物價提高
(A)①②
(B)①③
(C)②④
(D)③④
- 每年 2 月為屏東櫻花蝦大豐收的時節，然而為了永續發展，屏東東港漁會規定捕撈期從每年 10 月至隔年 5 月且不得超量。針對東港漁會限定公海捕撈櫻花蝦的規定，下列敘述何者正確？
(A)櫻花蝦的濫捕將會導致自然獨占的現象
(B)櫻花蝦屬於公共財為全體所有不得濫捕
(C)櫻花蝦在財產權上無法排他且具獨享性
(D)櫻花蝦的外部效果會產生政府失靈情形
- 在自由經濟市場交易中，買賣雙方所擁有的資訊可能並不完全相同，因而影響其決定，此稱為「資訊不對稱」現象。下列何者屬於「資訊不對稱」的例子？
(A)大眾運輸業者因油價上漲提高票價
(B)因公司放無薪假只好在外兼職打工
(C)二手車市場買賣雙方對車況的了解
(D)因應少子化現象學校只好減班裁員
- 政府對香菸課徵「健康捐」，對香菸市場造成的影響可能為下列何者？



- 10 我國的普通法院負責審理民事訴訟與刑事訴訟，在三級三審的制度下設有地方法院、高等法院和最高法院。下列關於我國法院的審級制度之相關敘述，何者正確？
(A)為了維護訴訟當事人的權益，所有訴訟一律採三級三審制
(B)所有訴訟一律採三級三審制，就可以矯正法院的錯誤判決
(C)刑事訴訟法規定所犯罪刑最重三年以下有期徒刑之輕罪，二審終結
(D)民事訴訟法規定上訴所得受之利益未超過一百萬元者，不得上訴最高法院
- 11 研究生阿勇準備撰寫論文，但為避免觸法，阿勇查閱著作權的相關規定。依據我國著作權法的規定，下列敘述何者正確？
(A)依「合理使用」精神，必須作者本人同意才可引用其論文
(B)論文完成並上傳論文系統後，才取得著作權
(C)阿勇腦海中構想的論文內容，也受著作權保障
(D)著作權之保障，為著作人生存期間至死亡後 50 年
- 12 設籍臺北的阿璋經營餐飲店想要在臺中開設分店，於是向設籍臺南的好友阿強借 100 萬元周轉，約定一年後還款，但兩人未簽訂借據。一年過去了，阿璋始終不願還款，若阿強想要討回借款，下列是阿強打算採取的救濟程序，何者符合我國相關法律的規定？
(A)私下找阿璋和解，未來若不履行債務可直接請求法院強制執行
(B)向鄉鎮市區公所調解委員會聲請調解，調解書製成即有判決效力
(C)阿強可向臺南地方法院提出債務不履行的民事訴訟官司
(D)進入民事訴訟程序，在一審終結前仍可再進行和解或調解程序
- 13 我國民法規定，因故意或過失不法侵害他人之權利者稱之為「侵權行為」，需負損害賠償責任。下列關於侵權行為所致生之民事責任的敘述，何者正確？
(A)未成年人無照騎機車撞傷人，父母應負連帶賠償責任
(B)因侵權而致生名譽權之損失者，應負回復原狀之責任
(C)侵權行為的損害賠償，應由行為的當事人負完全責任
(D)損害賠償之範圍不限於被害人所受損害或所失之利益
- 14 某甲涉嫌下藥迷昏並性侵多位女子，引發社會關注。下列關於本案件的敘述，何者正確？
(A)屬公開審理主義之例外
(B)涉及強制性交罪屬告訴乃論
(C)該類案件已改為妨害風化罪
(D)對加害人及被害人都會予以強制治療
- 15 某富少涉嫌下藥性侵女子，遭檢察官依加重強制性交罪具體求刑 30 年，但一審法官認為，未有直接證據證明富少的確下藥迷昏，因此改採較輕微的乘機性交罪判刑 18 年，針對此案敘述，下列何者正確？
(A)針對檢察官認定富少下藥迷昏之事實，法官不予採證屬其自由心證
(B)法官應傳喚遭性侵之女子與富少當庭對質，並全程轉播以昭公信
(C)為避免檢察官後續濫訴侵害被告人權，法官應主動介入調查此案
(D)富少如不服一審地方法院判決，可向大法官提出釋憲的救濟程序
- 16 金融監督管理委員會修訂「證券投資顧問事業負責人與業務人員管理規則」，規定投顧人員在電視上作股市解盤，須具備分析師資格，避免股友社老師招收會員炒作股價。依上所述，該會修訂該規則之最主要目的為何？
(A)建立股票市場交易公平性
(B)限制人民職業選擇的自由
(C)股市解盤內容需事先審查
(D)提醒投資人慎選理財工具
- 17 若學校對學生做出輔導轉學或退學等處分時，依規定應給予學生陳述意見的機會。依上所述判斷，其主要在強調下列何種原則？
(A)民主程序原則
(B)明確性原則
(C)比例原則
(D)禁止不當聯結原則
- 18 根據司法院釋字第 593 號部分解釋文提及：國家基於一定之公益目的，對特定人民課予繳納租稅以外之金錢義務，涉及人民受憲法第 15 條保障之財產權，其課徵目的、對象、額度應以法律定之，或以法律具體明確之授權，由主管機關於授權範圍內以命令為必要之規範。依上所述，主要在強調下列那一項法律原則？
(A)比例原則
(B)平等原則
(C)法律優位原則
(D)法律保留原則
- 19 近年來我國聲請釋憲與大法官受理作成之解釋件數明顯增加，顯示我國司法對人權保障的重視。依現行法律之規定，下列有關釋憲聲請的敘述，何者正確？
(A)法官審理案件發現適用法律有牴觸憲法疑義時，得裁定暫停審理，由案件當事人聲請釋憲
(B)人民認為各級法院的審判侵害憲法保障的權利，可立即向司法院聲請釋憲
(C)民間社團可經由請願或一定人數之連署，向司法院大法官聲請釋憲
(D)立法委員認為適用法律有牴觸憲法疑義時，經立法委員總額 1/3 以上之委員連署可聲請釋憲
- 20 立法院負責立法與修法的工作，依據相關法律規定，下列有關法律制定過程的敘述，何者正確？
(A)一讀會後，交由相關委員會審查，如有爭議得進行黨團協商
(B)二讀會後，立法委員如認為決議法案有疑義，得經由連署提出覆議
(C)三讀會時，院會依次逐條討論並表決，除違憲外僅能作文字修正
(D)三讀會後，行政院如認為法案窒礙難行，得逕行提出復議

- 21 我國的中央政府制度近似於法國的雙首長制，下列有關法國雙首長制之敘述，何者是與我國政府制度相同？
 (A)總統選舉採兩輪投票制 (B)總統可以直接解散國會
 (C)國會法案採穿梭立法制 (D)國會可對內閣進行不信任投票
- 22 在多數決制中，擁有不同政黨資源的候選人，在不同選舉區參選的優勢不同。下列關於選舉制度與政黨的關係，何者正確？
 (A)單一選區制有利小黨 (B)複數選區制有利大黨
 (C)沒有政黨支援者，在單一選區制中較有勝算 (D)各政黨在複數選區制中較有策略運用的空間
- 23 「社會中，當個人發現自己的意見與多數者一樣，這些個體就會勇敢地表達自己的意見；但若是發現自己的意見屬於少數，就會趨向不表達。」上述說法符合下列何種理論？
 (A)寡頭鐵律 (B)月暈效應 (C)沉默螺旋 (D)無知之幕
- 24 領海之基線與領海外界線為界定領海範圍的重要公告，依據我國法律領海基線由何機關訂定並公告？
 (A)國防部 (B)外交部 (C)立法院 (D)行政院
- 25 柯南是現任的鄉長，因不當收取道路災害維修工程回扣及接受賄賂，被依貪污治罪條例判處有期徒刑 25 年，並依法去職。有關柯南接受國家的法律制裁並依法去職，是符合民主政治的何種特色？
 (A)民意政治、責任政治 (B)法治政治、責任政治 (C)法治政治、政黨政治 (D)政黨政治、民意政治
- 26 中華民國政府組織再造工程於民國 101 年開始上路，傳統中央政府組織的「八部二會」已走入歷史，取而代之的是「十四部、八會、三獨立機關」，組織再造後，下列那個機關不列為行政院的獨立機關？
 (A)中央銀行 (B)中央選舉委員會 (C)公平交易委員會 (D)國家通訊傳播委員會
- 27 大明平常熱衷於政治，喜歡了解每個候選人的政見並加以比較。等到他有法定資格時，就能投票選出心目中的候選人。依據我國相關法律規定判斷，下列何者可能是大明目前無法投票的原因？
 (A)未達法定年齡 (B)擁有雙重國籍 (C)居住離島地區 (D)宣告褫奪公權
- 28 我國多數選舉皆依照公職人員選舉罷免法辦理，下列何者是依據公職人員選舉罷免法之規定所產生的？
 (A)正副總統 (B)直轄市區長 (C)鄉鎮市民代表 (D)村里幹事
- 29 依照我國憲法規定，現行政府體制中，關於立法院與總統關係的敘述，下列何者正確？
 (A)總統需至立法院做施政報告並備詢
 (B)總統針對立法院通過的法案可直接提請立法院覆議
 (C)總統任命司法院院長需要立法院同意
 (D)總統可逕行解散立法院
- 30 憲法必須與時俱進，隨著時代變遷擴充或調整，下列調整方式中，何者的變動幅度最大？
 (A)修改憲法 (B)大法官釋憲 (C)制定新憲法 (D)以憲政慣例補充
- 31 美國心理學家米德 (G. Mead) 所談到的「我」當中，已經社會化的、遵守規範的、受過薰陶的我，稱為什麼？
 (A)主我 (B)客我 (C)自我 (D)超我
- 32 「公共電視台」製播談話型節目，開放民眾製播節目投件，提供社會大眾參與及表達意見的媒體空間。這種作法主要是在實踐閱聽人的何種權利？
 (A)媒體監督權 (B)媒體使用權 (C)媒體接近權 (D)媒體營利權
- 33 非異性戀者常受到社會上污名化的壓力。為了追求人權保障，同志運動以「彩虹旗」作為象徵標誌，推動尊重多元性傾向的觀念，反對長期以來的污名化。面對現今多元的性別關係，我們應有何種正確的認知與態度？
 (A)同性戀是值得同情與關懷的偏差性傾向 (B)異性戀者的能力均較其他性傾向者為佳
 (C)同性戀與雙性戀問題可透過心理治療解決 (D)性別關係並非只侷限在男女兩性二元面向
- 34 米花國是一個多民族國家，長時間推行多元文化政策的結果，使境內各族能學習尊重並欣賞不同族群的文化，這也使得米花國的文化內涵呈現豐富樣貌。試問下列那些作法，最可能是米花國政府所推行的措施？
 ①立法禁止鄰國文化入侵 ②保障境內各族群的人權平等 ③要求境內少數族群放棄母語學習，以利與外界溝通 ④透過教材安排，使學童自幼學習欣賞不同族群的文化
 (A)①② (B)①③ (C)②③ (D)②④
- 35 各種環保團體為了達成組織理念，招募有志之士組成團體，在長期間的努力爭取後，終獲立法院的友善回應，開始進行環保法規的修改與制定。這例子最可以用來說明下列何種社會現象？
 (A)為保障中央政府的合理權力，社會中的團體數量不宜過多
 (B)社會中的團體結合社會運動，常能有效監督並影響政策制定
 (C)透過政府各部門間的密切合作，可以形成一股引領社會進步的力量
 (D)由於成員立場不同，導致社會中的團體與社會運動無法有效結合
- 36 My eyes haven't _____ to the dark yet; therefore, I can't see anything now.
 (A)accessed (B)absorbed (C)adored (D)adjusted
- 37 An employer has to _____ with many business problems every day. He needs help and support from his employees.
 (A)part (B)decide (C)cope (D)launch

- 38 Those who _____ in women's liberation movement continue to fight for a change.
(A)consist (B)believe (C)decide (D)result
- 39 In what has become a summer tradition, wealthy Arabs travel to London with their _____ supercars.
(A)delicious (B)expensive (C)monotonous (D)extensive
- 40 Peggy found a kitten on her way home. _____ kitten looked hungry, thirsty and lost.
(A)A (B)An (C)The (D)These

請依下文回答第 41 題至第 45 題：

Akira Suzuki is now famous for his work in the theater, but his early ambition was to be a writer. In his biography, which has just been published, Suzuki is described 41 a quiet, introverted sort of man. He wrote his first play when he was in primary school, and his first "haiku" (a special kind of Japanese poem) when he was just six years old. Nowadays, 42 he still believes poetry is the highest form of art, he is better known as a playwright 43 written more than thirty plays. He has also moved into films, not as an actor but as a 44 for films such as The Fifth Samurai, which was highly successful. In the future, he plans to write a novel 45 his childhood. Is Suzuki a historian, poet, dramatist, screenwriter or a novelist?

- 41 (A)as (B)like (C)with (D)of
42 (A)when (B)because (C)if (D)although
43 (A)has (B)had (C)having (D)have
44 (A)publisher (B)screenwriter (C)porter (D)dreamer
45 (A)instead of (B)rather than (C)based on (D)next to

請依下文回答第 46 題至第 50 題：

American talk-show host, Oprah Winfrey, has been named as the highest-paid TV celebrity and one of the world's most powerful women, but she is also a big giver, topping a list of the 30 most generous celebrities for the second year running in 2007.

The second annual list, compiled by The Giving Back Fund, a group that seeks to encourage philanthropy, put Oprah in the top slot with The Oprah Winfrey Foundation and Oprah's Angel Network spending \$50.2 million in 2007 on education, health care, and advocacy for women and children worldwide.

Second place on the list, published in the latest edition of Parade magazine, went to trumpeter and A&M record co-founder Herb Alpert with The Herb Alpert Foundation spending \$13 million on education, including the UCLA Herb Alpert School of Music.

Singer-actress Barbra Streisand came third in the list that was based on public records of donations made in 2007, with \$11 million donated by The Streisand Foundation to the environment, women's issues, civil rights, AIDS research, and advocacy.

Fourth place went to Paul Newman, who gave \$10 million to the Scholarship for Kenyon College, his alma mater in Gambier, Ohio. Mel Gibson was in the fifth slot, giving \$9.9 million to the Holy Family Church in Malibu, California.

- 46 What is this passage mainly about?
(A)Oprah Winfrey (B)Famous foundations
(C)Generous celebrities (D)Powerful men and women
- 47 What do the people mentioned in the passage have in common?
(A)They all live in Los Angeles.
(B)They are all supporters of women rights.
(C)They all have donated money to help others.
(D)They all become famous because of their foundations.
- 48 Which of the following is true about The Giving Back Fund?
(A)It is bank that gives money to poor people.
(B)It is a group of people that make money like celebrities.
(C)It is a foundation that helps people become rich and famous.
(D)It is an organization that invites people to donate money to help others.
- 49 Which of the following foundations donated money to improve education?
(A)Mel Gibson Foundation and Paul Newman Foundation
(B)Mel Gibson Foundation and Oprah's Angel Network
(C)The Streisand Foundation and The Herb Alpert Foundation
(D)The Herb Alpert Foundation and Oprah's Winfrey Foundation
- 50 Where would this passage most likely appear?
(A)A newspaper (B)A novel (C)A TV Guide (D)A tax report

測驗題標準答案更正

考試名稱：104年公務人員特種考試警察人員考試、104年公務人員特種考試一般警察人員考試、
104年特種考試交通事業鐵路人員考試及104年特種考試退除役軍人轉任公務人員考試

類科名稱：材料管理、運輸營業、場站調車

科目名稱：公民與英文

單選題數：50題

單選每題配分：2.00分

複選題數：

複選每題配分：

標準答案：答案標註#者，表該題有更正答案，其更正內容詳見備註。

題號	第1題	第2題	第3題	第4題	第5題	第6題	第7題	第8題	第9題	第10題
答案	C	B	B	D	B	A	C	C	A	C

題號	第11題	第12題	第13題	第14題	第15題	第16題	第17題	第18題	第19題	第20題
答案	D	D	#	A	A	A	A	D	D	A

題號	第21題	第22題	第23題	第24題	第25題	第26題	第27題	第28題	第29題	第30題
答案	D	D	C	D	B	A	A	C	C	C

題號	第31題	第32題	第33題	第34題	第35題	第36題	第37題	第38題	第39題	第40題
答案	B	B	D	D	B	D	C	B	B	C

題號	第41題	第42題	第43題	第44題	第45題	第46題	第47題	第48題	第49題	第50題
答案	A	D	C	B	C	C	C	D	D	A

題號	第51題	第52題	第53題	第54題	第55題	第56題	第57題	第58題	第59題	第60題
答案										

題號	第61題	第62題	第63題	第64題	第65題	第66題	第67題	第68題	第69題	第70題
答案										

題號	第71題	第72題	第73題	第74題	第75題	第76題	第77題	第78題	第79題	第80題
答案										

題號	第81題	第82題	第83題	第84題	第85題	第86題	第87題	第88題	第89題	第90題
答案										

題號	第91題	第92題	第93題	第94題	第95題	第96題	第97題	第98題	第99題	第100題
答案										

備註：第13題答A或B或AB者均給分。